

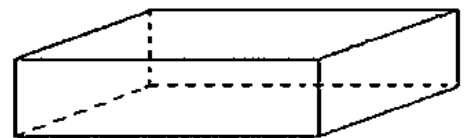
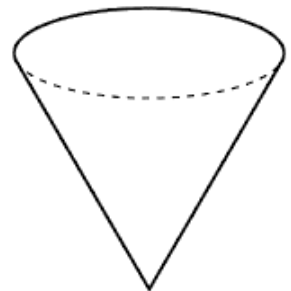
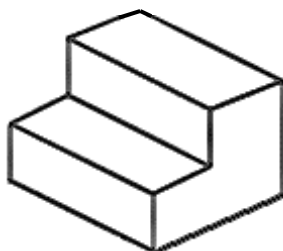
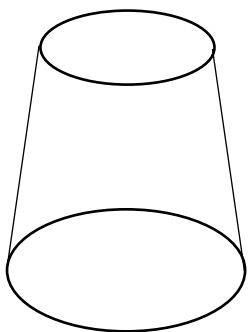
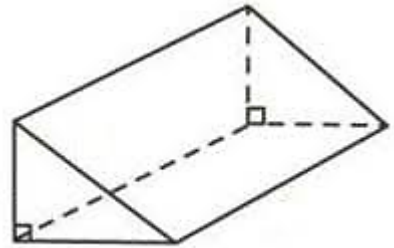
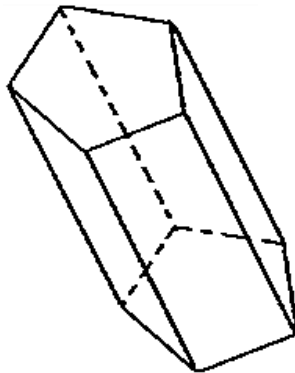
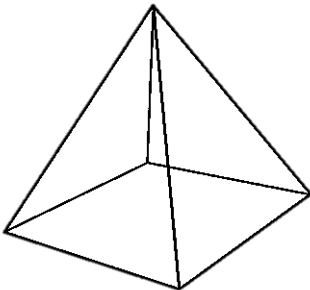
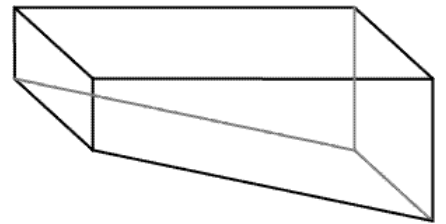
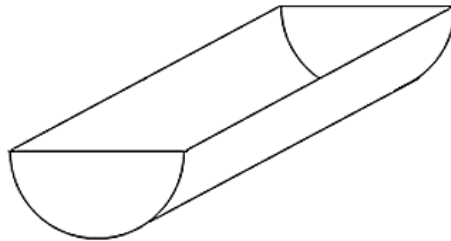
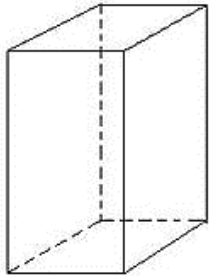
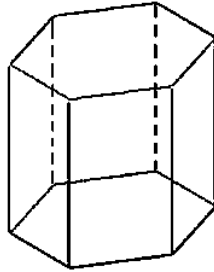
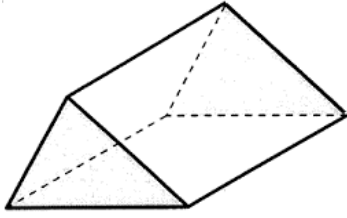
<b>แบบฝึกหัด จำนวนจริง</b>
----------------------------

จัดจำนวนต่อไปนี้ลงตาราง

ข้อ	จำนวน	จำนวนมีจริงในโลก		จำนวนไม่มีจริงในโลก
		ตรรกยะ	อตรรกยะ	
1.	0			
2.	3			
3.	- 71			
4.	$\frac{1}{2}$			
5.	0.34			
6.	1.6666...			
7.	2.54 $\bar{3}$			
8.	$\sqrt{9}$			
9.	$\sqrt{2}$			
10.	$-\frac{6}{2}$			
11.	$\sqrt{4}$			
12.	0.365738...			
13.	$\sqrt{-3}$			
14.	$\frac{\sqrt{8}}{\sqrt{2}}$			
15.	- 0.12154			
16.	25			
17.	0.23 $\bar{5}$			
18.	0.5			
19.	$\sqrt{16}$			
20.	- 8			

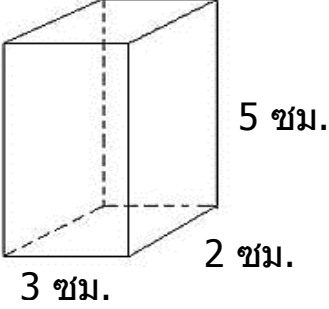
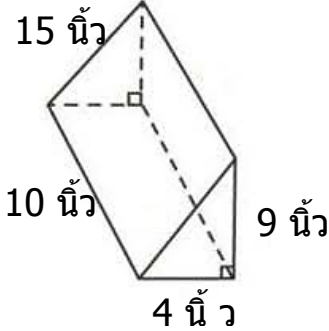
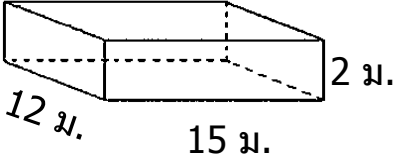
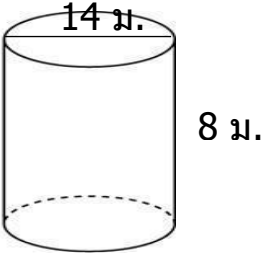
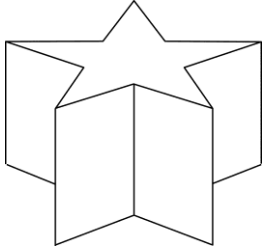
**แบบฝึกหัด พื้นที่ผิวและปริมาตร**

1. จงระบายสีที่ฐานของปริซึม และ ทรงกระบอก



## แบบฝึกหัด พื้นที่ผิวและปริมาตร

## 2. หาคำตอบ

รูป	พื้นที่ฐาน	สูง	ปริมาตร
1.  3 ซม. 2 ซม. 5 ซม.			
2.  15 นิ้ว 10 นิ้ว 4 นิ้ว 9 นิ้ว			
3.  12 ม. 15 ม. 2 ม.			
4.  14 ม. 8 ม.			
5.  4 ซม. พื้นที่ฐาน 25 ซม. <sup>2</sup>			

ความเท่ากันทุกประการ
----------------------

2. จากรูปที่กำหนดให้ต่อไปนี้เป็นรูปใดที่เท่ากันทุกประการ

แบบ ด้าน มุม ด้าน

ให้ใส่ ✓ หน้าข้อนั้น

แบบ มุม ด้าน มุม

ให้ใส่ ★ หน้าข้อนั้น

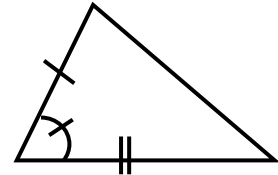
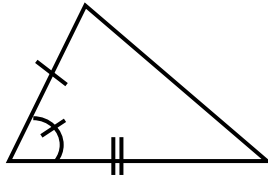
แบบ ด้าน ด้าน ด้าน

ให้ใส่ ☺ หน้าข้อนั้น

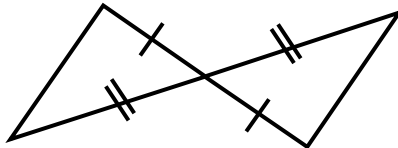
ถ้าไม่เท่ากันทุกประการ

ให้ใส่ ✗ หน้าข้อนั้น

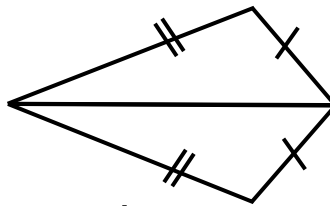
\_\_\_\_\_ (1)



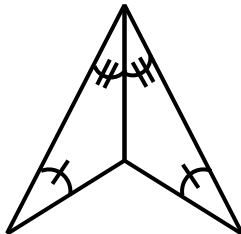
\_\_\_\_\_ (2)



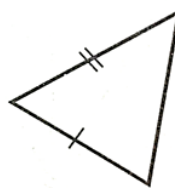
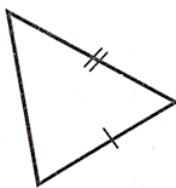
\_\_\_\_\_ (3)



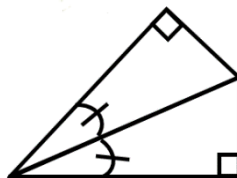
\_\_\_\_\_ (4)



\_\_\_\_\_ (5)



\_\_\_\_\_ (6)



\_\_\_\_\_ (7)

